

4. BEKKUR 2015

STÆRÐFRÆÐI

Settu límmiðann
innan rammans

SAMRÆMT KÖNNUNARPRÓF

HEFTI I

Nafn: _____

Bekkur: _____

Skóli: _____

- Merktu prófheftið með nafni þínu, bekk og skóla.
- Athugaðu hvort upplýsingar í reitnum efst til hægri eigi við þig.
- **Notkun vasareiknis er ekki heimil í þessu hefti.**
- Leyfð hjálpargögn eru kubbar, reglustika, talnagrind og spegill.
- Sýndu útreikninga.
- Athugaðu að svör á aukablöðum eða rissblöðum verða ekki metin.
- Notaðu svartan eða bláan penna. Notaðu ekki tússpenna.
- Settu kross í reitinn , ekki fylla alveg í reitinn .
- Vandaðu frágang. Gangi þér vel.



1. Reiknaðu $78 + 21 =$ _____

- autt
- 0
- 1
- 2

2. Reiknaðu $896 - 745 =$ _____

- autt
- 0
- 1
- 2

3. Reiknaðu $657 + 74 + 9 =$ _____

- autt
- 0
- 1
- 2

4. Reiknaðu $750 - 86 =$ _____

- autt
 0
 1
 2

5. Reiknaðu $37 \cdot 3 =$ _____

- autt
 0
 1
 2

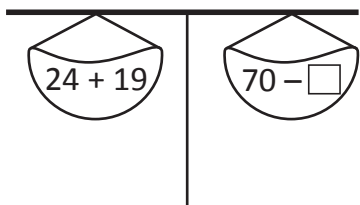
6. Skrifaðu rétta tölu á strikið. $68 + 72 = 150 -$ _____

- autt
 0
 1
 2

7. Skrifaðu rétta tölu á strikið. $7 \cdot 9 = 44 +$ _____

- autt
 0
 1
 2


8. Hvaða tala á að vera í kassanum þannig að sama útkoma verði
í báðum skálunum?



Svar: _____

- autt
 0
 1
 2

9. Gat er á teppinu hennar Siggú. **Hvaða bútur passar í gatið?**


 1

 2

 3

 4

10. Á dulmáli eru eftirfarandi ták notuð til að búa til númer:

$\square = 10$ $\diamond = 5$ $\circ = 1$

Hvernig táknum við töluna 39?

1 $\circ \circ \circ \circ \circ \circ \circ \circ \circ \circ \square \square \square \square$

2 $\square \square \square \diamond \circ \circ \circ \circ$

3 $\square \square \square \circ \square \circ$

4 $\diamond \diamond \diamond \diamond \diamond \diamond \diamond \circ \circ \circ \circ \square \square \square$

11. Maren skoraði 17 mörk í 4 leikjum í handbolta. Hún skoraði 5 mörk í fyrsta leiknum, 4 mörk í öðrum leiknum og 5 mörk í þriðja leiknum.

Hve mörg mörk skoraði Maren í fjórða leiknum?

1 2

2 3

3 4

4 5

12. Í leikskólanum Bláuborg eru 42 börn í einni skóladeild. Þau eru í sex jafnstórum hópum. **Hvað eru margir krakkar í hverjum hópi?**

1 5

2 6

3 7


4 8

13. Ég hugsa mér tölu, margfalda hana með 2 og bæti 7 við. Þá fæ ég svarið 25.
Hver var talan sem ég hugsaði mér?

- ₁ 9
₂ 11
₃ 16
₄ 18

14. Hve langur er liturinn?

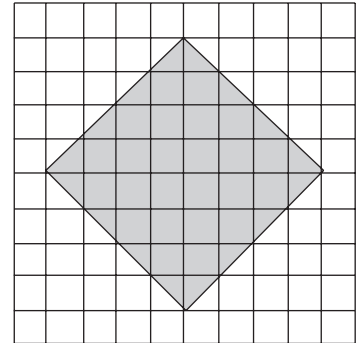
Mældu með reglustiku.



- ₁ 11,0 cm
₂ 11,9 cm
₃ 12,2 cm
₄ 12,5 cm

15. Hvert er flatarmál skyggða svæðisins?

- ₁ 16 ferningar
₂ 24 ferningar
₃ 32 ferningar
₄ 40 ferningar



16. Í rússíbana í Tívolí voru 5 vagnar. 34 krakkar fóru saman eina ferð.
Átta krakkar voru í hverjum af fremstu fjórum vögnunum.
Hve margir voru þá í þeim aftasta?

- ₁ 1
₂ 2
₃ 3
₄ 4

17. Hvaða tala kemur næst í þessari talnaröð? 0, 5, 4, 9, 8, 13, 12, 17, 16, ___

- ₁ 15
₂ 19
₃ 20
₄ 21




18. Hvert svaranna hér að neðan er framhald af mynstrinu hér að ofan?



19. Hvað verður klukkan eftir 3 ½ tíma?

- ₁ 3:30
₂ 3:45
₃ 4:45
₄ 6:30





ÞESSI SÍÐA Á AÐ VERA AUÐ

